



SECRETARIA MUNICIPAL DE EDUCAÇÃO E CULTURA
REDE MUNICIPAL DE ENSINO
AULAS PEDAGÓGICAS COMPLEMENTARES

Componente curricular: Matemática
Período: 01/03/2021 á 31/03/2021

Etapas: Ensino Fundamental I
Turma: 1º Ano

CADERNO 1

AULA 1, 2 E 3:

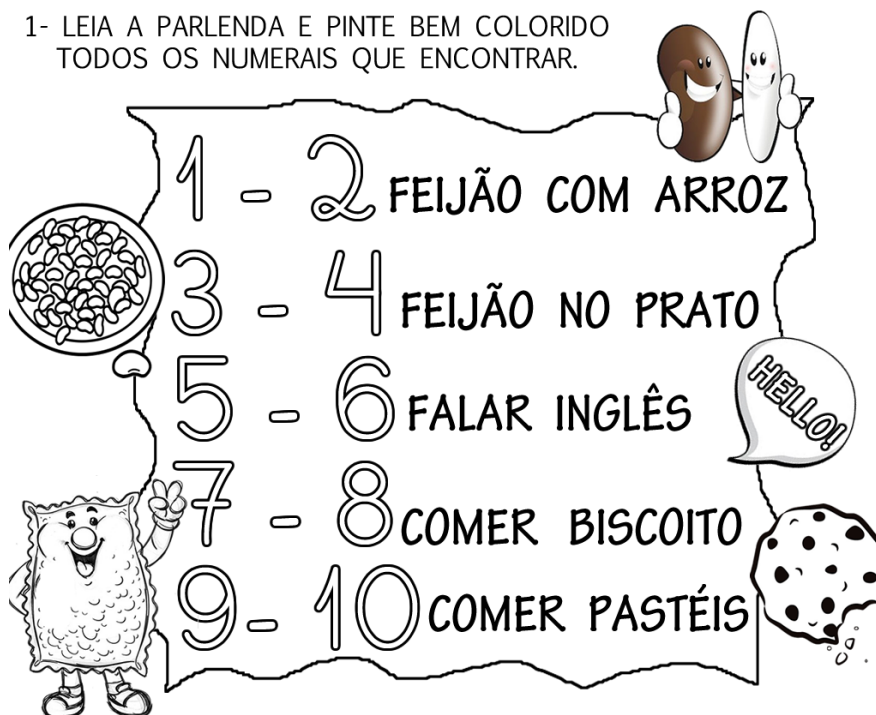
VIDEO DE APRESENTAÇÃO PESSOAL E AS BOAS VINDAS AOS ALUNOS;

NÚMEROS

VAMOS CONHECER OS NÚMEROS DE 1 A 10 COM A PARLENDAS:

1 2 3 4 5 6 7 8 9 10

1- LEIA A PARLENDAS E PINTE BEM COLORIDO
TODOS OS NUMERAIS QUE ENCONTRAR.



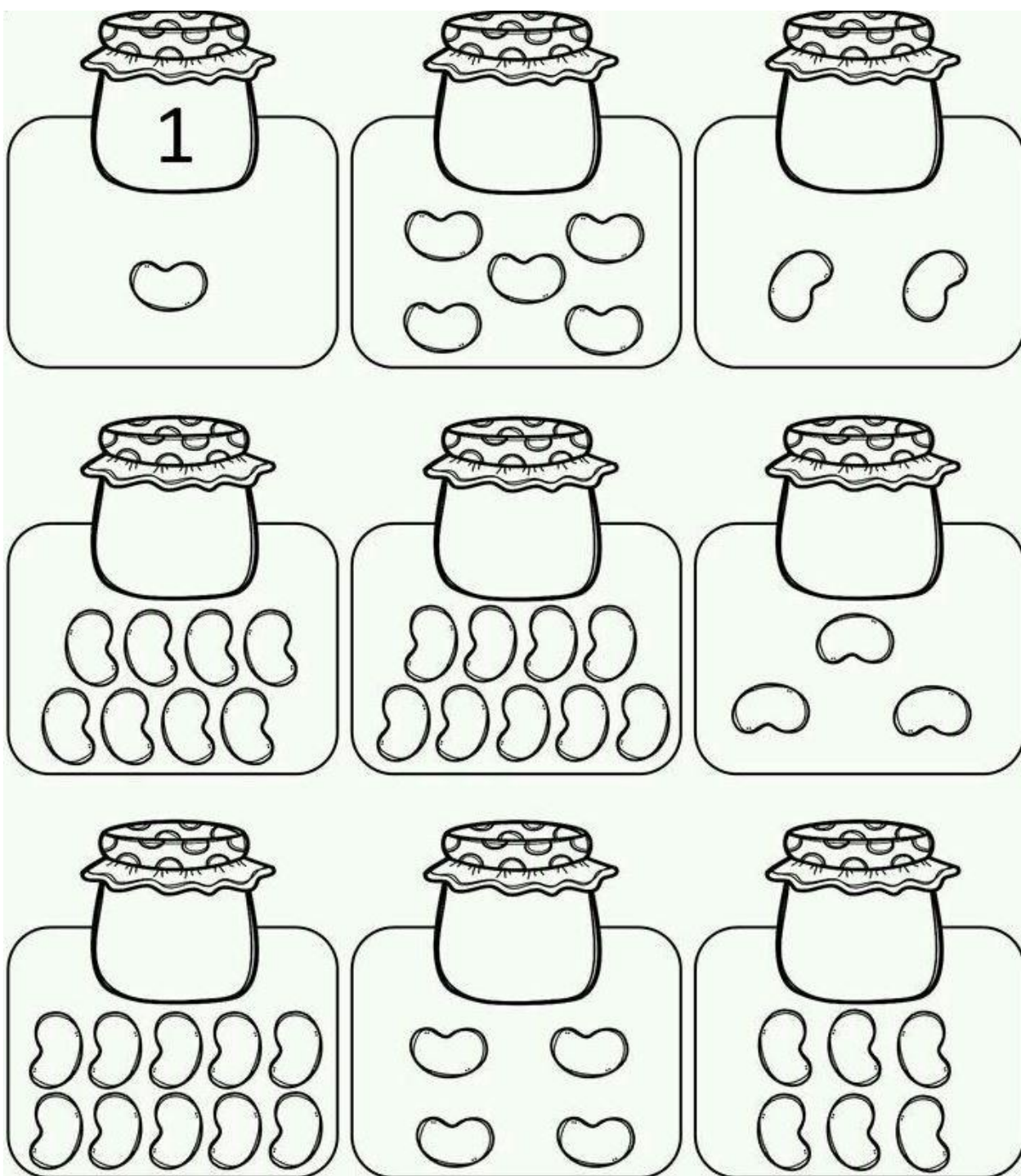
2- COMPLETE A SEQUÊNCIA NUMÉRICA:

1 - - 3 - - 5 - -
7 - - 9 -

AULA 4, 5 E 6:

NÚMEROS E QUANTIDADES

COMPLETE COM AS QUANTIDADES INDICADAS:



AULA 7, 8 E 9:


OBSERVE A SEQUÊNCIA NUMÉRICA E COMPLETE O ANTECESSOR E SUCESSOR:

1 2 3 4 5 6 7 8 9 10



LETRAS E NÚMEROS

1- SEPRE OS NÚMEROS DAS LETRAS, PINTANDO OS NÚMEROS DE AZUL E AS LETRAS DE AMARELO.



2- AGORA, ESCREVA CADA UM EM SEU LUGAR CORRESPONDENTE.

* LETRAS

○ ○ ○ ○ ○ ○ ○ ○ ○

* NÚMEROS

○ ○ ○ ○ ○ ○ ○ ○ ○

AULA 13, 14 E 15:

GRANDEZAS E MEDIDAS - CALENDÁRIO

SABEMOS QUE O CALENDÁRIO MARCA OS DIAS DA SEMANA

MARÇO						
DOM	SEG	TER	QUA	QUI	SEX	SAB
	1	2	3	4	5	6
7	8	9	10	11	12	13
14	15	16	17	18	19	20
21	22	23	24	25	26	27
28	29	30	31			

OBSERVE O CALENDÁRIO ACIMA E PREENCHA O CALENDÁRIO DO MÊS DE MARÇO;

PREENCHA O CALENDÁRIO COM DIAS DESTE MÊS

ANO: MÊS:

DOMINGO	SEGUNDA- -FEIRA	TERÇA- -FEIRA	QUARTA- -FEIRA	QUINTA- -FEIRA	SEXTA- -FEIRA	SÁBADO

QUE DIA DO MÊS É HOJE?

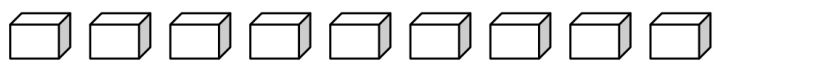
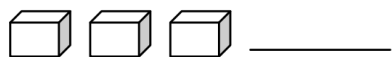
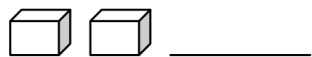

QUANOS DIAS TEM ESSE MÊS?

PINTE DE VERDE O QUADRINHO DO DIA DE HOJE.



Números de 1 até 9

1 – CONTE E REGISTRE:



PROBABILIDADE E ESTATÍSTICA – LEITURA DE TABELAS

□




Diagram showing six empty vertical bars for a bar graph. Each bar has a number label at the bottom: 9, 8, 7, 6, 5, and 4.

A black and white line drawing of a round cake. The cake has a thick layer of frosting on top, with a decorative swirl pattern around the edge. Below the cake is a scalloped, ruffled base. A small bee with wings and antennae is flying above the cake, leaving a dashed line trail behind it.

AULA 22 E 23:

GEOMETRIA - LOCALIZAÇÃO

MARA ESTÁ FAZENDO GINÁSTICA.
MARQUE, NOS DOIS QUADROS, UM X NA MÃO **DIREITA**
DE MARA.



QUEM ESTÁ SEGURANDO A BANDEIRA COM A MÃO **ESQUERDA**? MARQUE A RESPOSTA CORRETA.



☐ O MENINO.

☐ A MENINA.

CIRCULE OS OBJETOS QUE ESTÃO EM CIMA DA MESA E MARQUE (X) NOS QUE ESTÃO
EMBAIXO DA MESA.

