



SECRETARIA MUNICIPAL DE EDUCAÇÃO E CULTURA
REDE MUNICIPAL DE ENSINO
ATIVIDADES PEDAGÓGICAS COMPLEMENTARES

Escola: _____

Estudante: _____

Componente curricular: Geografia

Período: 05/04/2021 a 29/04/2021

Etapa: Ensino Fundamental I

Turma: 5º ano

- As atividades das APCs serão adequadas de acordo com a limitação e necessidade de cada estudante pelo professor (a) de Apoio e Supervisão do Departamento de Coordenação de Educação de Inclusão Social.

CADERNO 2

AULA 1 e 2 – Livro didático de AR Aprender e Relacionar “História e Geografia”, **páginas 18 e 19** com o tema “Dinâmica Populacional”.

- Fazer a Leitura e interpretação do texto e imagens. Responder as questões do livro didático número 1 e 2 das páginas 18 e 19.

2 Dinâmica populacional

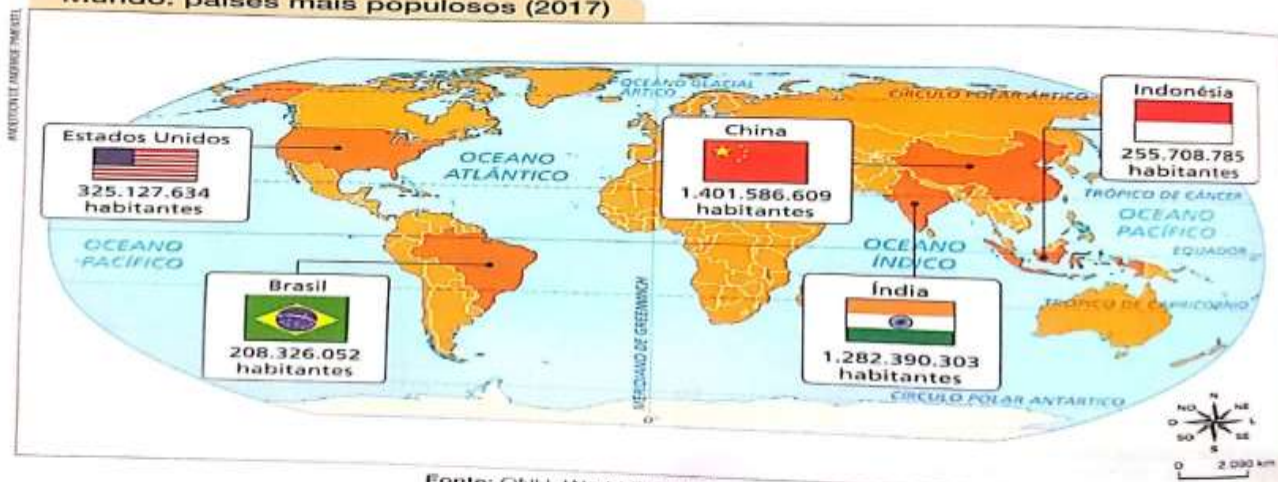
Você conheceu alguns povos que ocuparam territórios em diferentes continentes há milhares de anos. Atualmente, como a população mundial está distribuída nos países?

No início de 2018, a população do planeta Terra estava próxima de 7,6 bilhões de pessoas, e projeções feitas pela Organização das Nações Unidas (ONU) indicavam que a população mundial chegaria a 8,6 bilhões até 2030.

- Observe, no mapa a seguir, a população absoluta dos países mais populosos do mundo em 2017. Chamamos de **população absoluta** o número total de habitantes de um país ou de uma região.

Para conhecer esses números, os governos dos países realizam uma pesquisa que registra o número e as características da população. Essa pesquisa chama-se **censo** ou **recenseamento**.

Mundo: países mais populosos (2017)

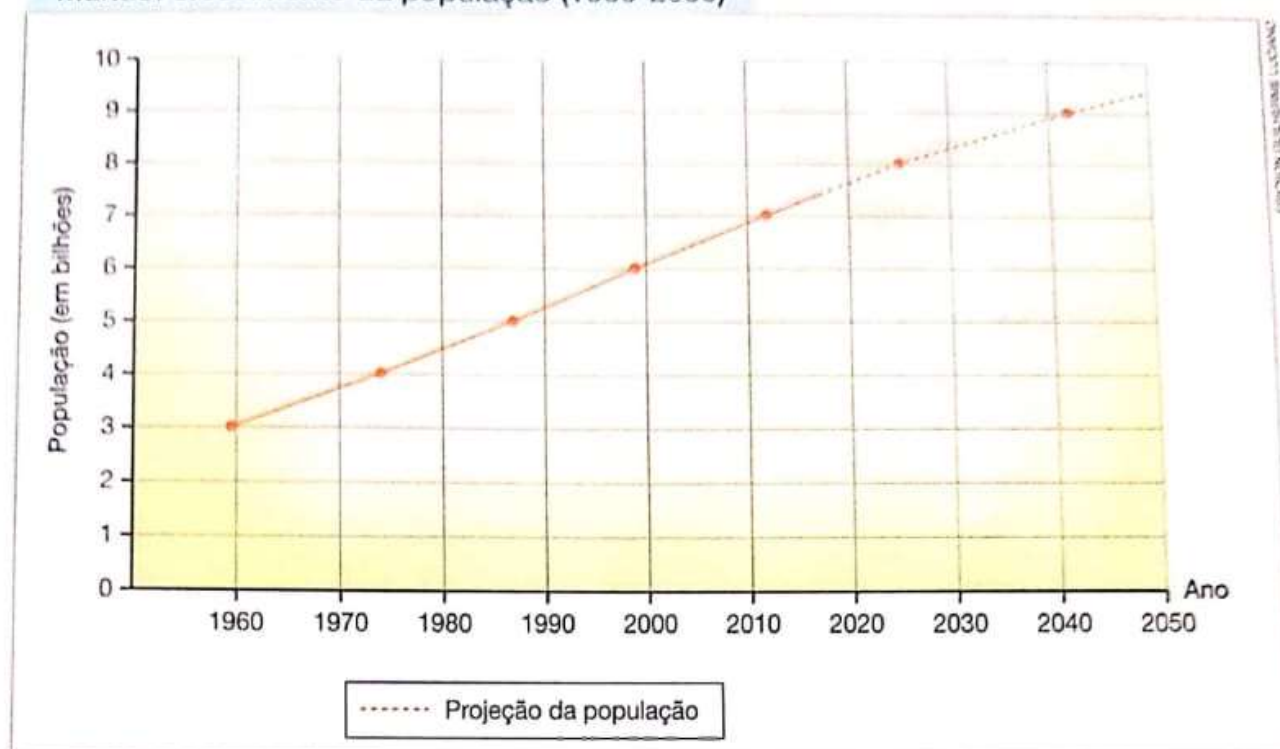


Fonte: ONU. World Population Prospects 2017. Disponível em: <<https://esa.un.org/unpd/wpp/Graphs/Probabilistic/POP/TOT/>>. Acesso em: 8 jan. 2018.

- Em 2017, quais eram os países que apresentavam uma população absoluta superior à brasileira?

- 2) Faça a leitura do gráfico que representa o crescimento da população mundial entre 1960 e 2050.

Mundo: crescimento da população (1960-2050)



Fonte: ONU. World Population Prospects 2017. Disponível em: <<https://esa.un.org/unpd/wpp/Graphs/Probabilistic/POP/TOT/>>. Acesso em: 8 jan. 2018.

- a) Qual era a população mundial em 1960?
- _____
- b) Considerando, no gráfico, o ano de 1960, quanto tempo depois a quantidade da população mundial dobrou?
- _____
- c) De acordo com as projeções indicadas no gráfico, a população mundial será, em 2030, maior que:
- ☐ 8 bilhões de pessoas. ☐ 9 bilhões de pessoas.
- d) Em sua opinião, quais são as possíveis consequências do rápido crescimento da população mundial? Compartilhe sua resposta com os colegas e o professor.

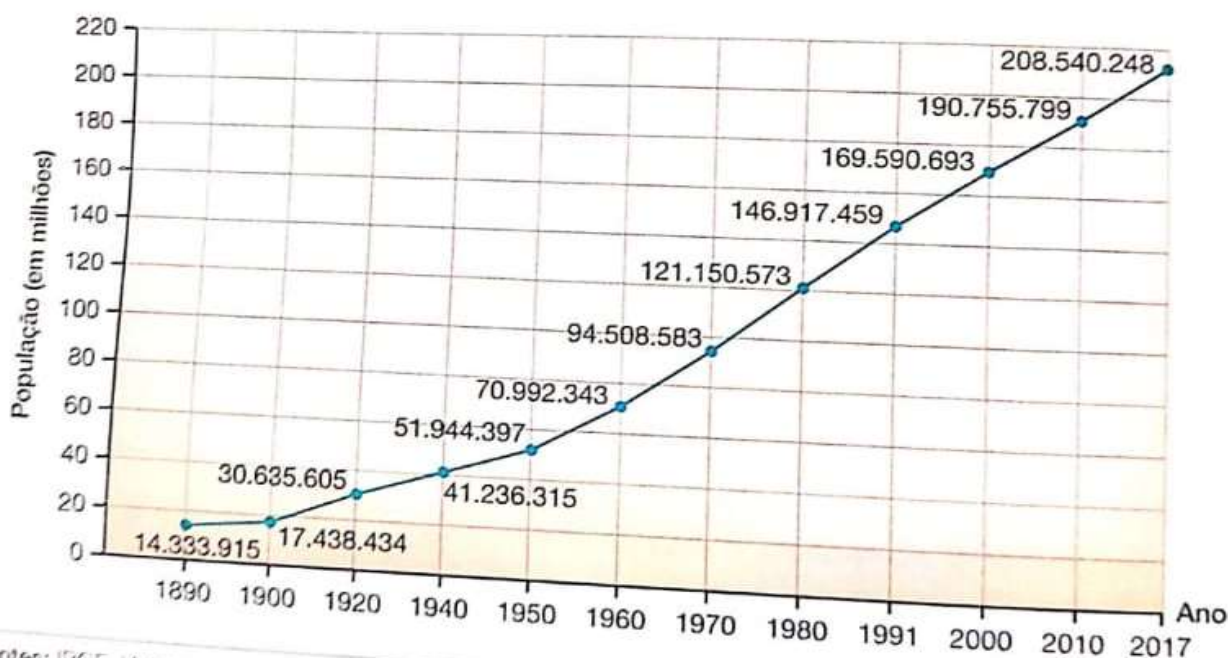
O crescimento da população do Brasil

No Brasil, o censo é realizado pelo Instituto Brasileiro de Geografia e Estatística (IBGE). O censo revela informações sobre as condições econômicas da população, o nível de escolaridade, a situação do saneamento básico das moradias, o número de habitantes nos espaços rural e urbano, entre outras. A população de um país cresce quando:

- o número de nascimentos é maior que o número de mortes, levando a um **crescimento natural**;
- o número de pessoas que entram no país é maior que o número de pessoas que saem, gerando um **saldo migratório positivo**.

1 Observe o gráfico.

Brasil: crescimento da população (1872-2017)



Fontes: IBGE. Vamos contar. Disponível em: <<https://vamoscontar.ibge.gov.br/atividades/ensino-fundamental-6-ao-9/45-a-populacao-cresce.html>>; <<https://ww2.ibge.gov.br/apps/populacao/projecao/>>. Acessos em: 22 jan. 2018.

a) De acordo com o gráfico, qual era a população brasileira aproximada em 1890?

b) Quanto a população brasileira cresceu entre 2000 e 2010?

c) Qual era a população do Brasil em 2017?

Uma importante mudança ocorrida nos últimos anos com relação à população brasileira foi o crescimento do número de adultos, sobretudo de idosos. Essa mudança se relaciona com o aumento do tempo médio de vida da população, que pode ser chamado de **expectativa de vida ao nascer**.

2 Leia a notícia.

Expectativa de vida do brasileiro é de 75,8 anos, diz IBGE

Em 76 anos, de 1940 a 2016, a expectativa de vida dos brasileiros ao nascer aumentou em mais de 30 anos e hoje é de 75,8 anos. [...] Os dados [...] foram divulgados [...] pelo Instituto Brasileiro de Geografia e Estatística (IBGE).

Ao falar sobre a pesquisa, o pesquisador do IBGE, Fernando Albuquerque, disse que a partir de 1940, com a incorporação dos avanços da medicina às políticas de saúde pública, o país experimentou uma primeira fase de sua **transição demográfica**.



Casal de idosos, no município do Rio de Janeiro, no estado do Rio de Janeiro, em 2016.

Expectativa de vida do brasileiro é de 75,8 anos, diz IBGE. *Correio Braziliense*, 1º dez. 2017. Disponível em: <http://www.correiobraziliense.com.br/app/noticia/brasil/2017/12/01/internas_polbraeco,644833/expectativa-de-vida-do-brasileiro-e-de-75-8-anos-diz-ibge.shtml>. Acesso em: 15 jan. 2018.

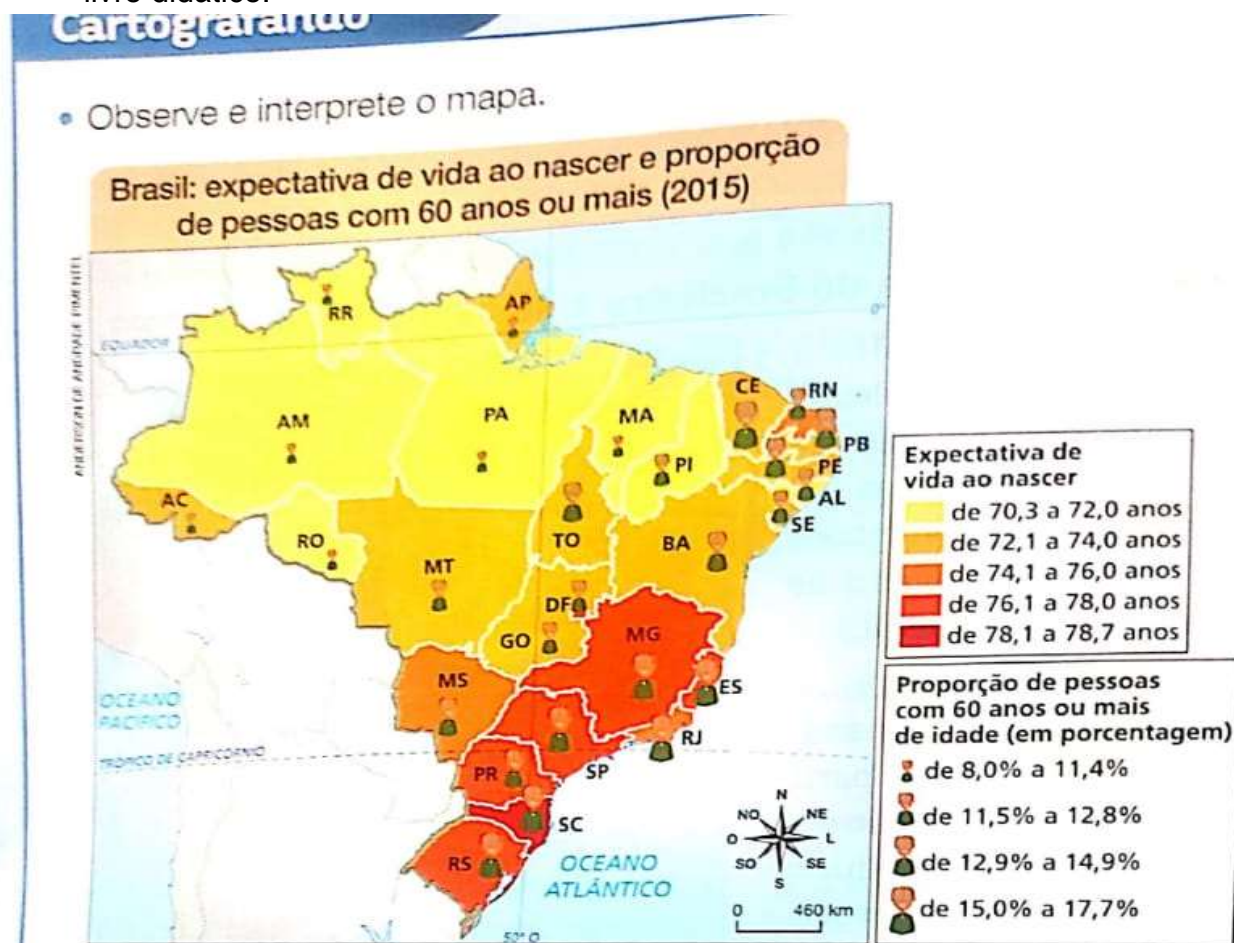
Transição demográfica: mudanças nas características da população com relação às taxas de natalidade e mortalidade, entre outras.

- De acordo com a notícia, segundo o IBGE, qual era a expectativa de vida do brasileiro em 2016?

- Em relação ao ano de 1940, quantos anos a mais de vida um brasileiro teve em média em 2016?

- Qual razão citada no texto contribuiu para que muitos brasileiros vivessem mais nos últimos anos?

- Fazer a Leitura e interpretação do mapa do Brasil. Responder as atividades A, B, C, D e E do livro didático.



- a) As unidades da federação que apresentam maior expectativa de vida estão representadas com uma cor:
- ☐ mais clara. ☐ mais escura.
- b) Em 2015, a população de qual unidade federativa apresentava maior expectativa de vida? _____
- c) Em relação à população idosa, as unidades federativas com maior proporção de pessoas com 60 anos ou mais de vida estão representadas com um símbolo de tamanho:
- ☐ maior. ☐ menor.
- d) Quais unidades federativas apresentavam menor porcentagem de idosos? _____
- e) Quais foram os dados registrados em sua unidade federativa em relação à expectativa de vida e à porcentagem de idosos? _____